

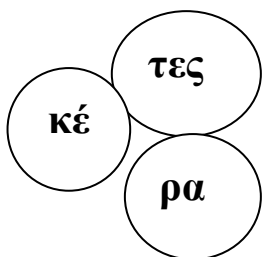
Αγαπητοί γονείς και παιδιά, ευχόμαστε να είστε όλοι καλά!!!

Μένουμε σπίτι και φροντίζουμε να περνάμε τον χρόνο μας όσο πιο παραγωγικά γίνεται. Σας προτείνουμε λοιπόν, κάποιες δραστηριότητες για εξάσκηση. Δε χρειάζεται να τις εκτυπώσετε. Μπορείτε να εργαστείτε στα άδεια τετράδια που σας δόθηκαν.

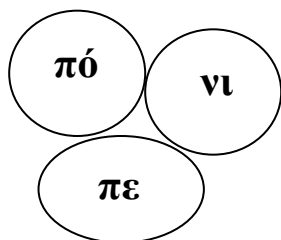


### Δραστηριότητα 1:

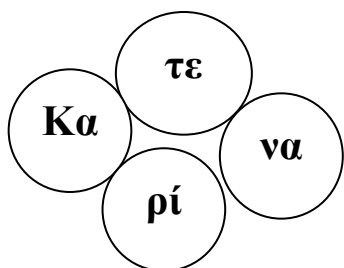
- Βάλε τις συλλαβές στη σωστή σειρά και βρες ποια είναι η κρυμμένη λέξη.



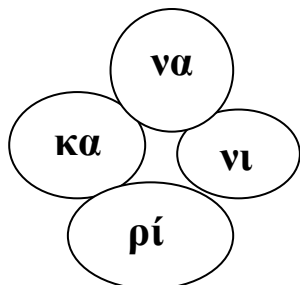
---



---



---



---

Δραστηριότητα 2:

➤ Διάβασε και ζωγράφισε.

καρότο

κεράσι

πατάτες

νάνος

πατέρας

Άρης

πίνακας

κερί

κασετίνα

Δραστηριότητα 3:

- Αντιστοίχισε τις λέξεις που ταιριάζουν μεταξύ τους.

νερό  
σαλάτα  
κόκορας  
ρινόκερος  
κεράσι  
καπέλο

κότα  
σακάκι  
ανανάς  
πιπέρι  
ποτήρι  
κέρατο

Δραστηριότητα 4:

- Διάλεξε συλλαβές, βάλε τες σε σειρά και φτιάξε λέξεις.  
➤ Θυμήσου να βάλεις τόνους στις λέξεις που έφτιαξες.

κο	ρα	σε	
κι	σο	νε	σι
τε	κα	ρι	πε
σα	ρε	νι	πα
ρο	κε	να	πι
τι	ς	νο	τα
	πο	το	

---

---

---

---

---

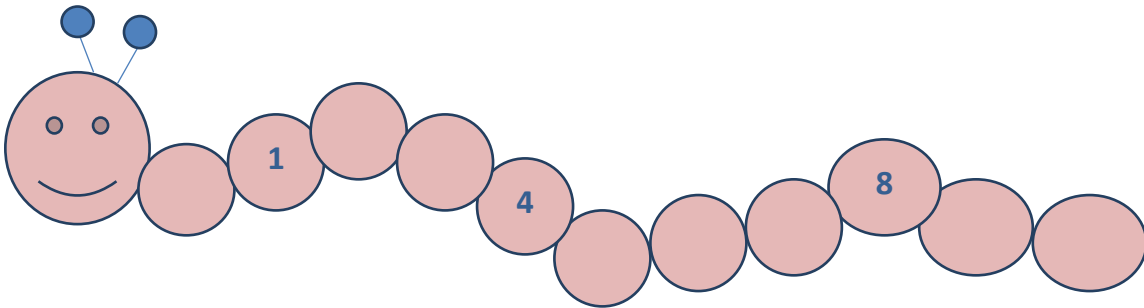
---

---

---

Δραστηριότητα 5:

➤ Γράψε τους αριθμούς που λείπουν στο σκουληκάκι.



Δραστηριότητα 6:

➤ Γράψε στο κουτάκι τον επόμενο αριθμό.

0

3

7

9

➤ Γράψε στο κουτάκι τον αριθμό που βρίσκεται ανάμεσα στο:

1  3

5  7

8  10

2  4

➤ Γράψε στο κουτάκι τον προηγούμενο αριθμό.

 8 1 6 9

➤ Γράψε στο κουτάκι τον προηγούμενο και τον επόμενο αριθμό.

 4  9  2  7 

Δραστηριότητα 7:

➤ Βάλε σε κύκλο τον μεγαλύτερο από τους δύο αριθμούς.

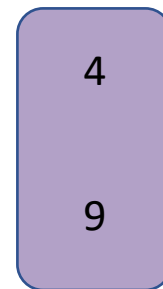
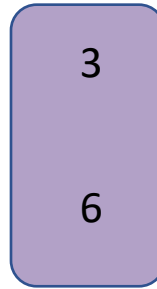
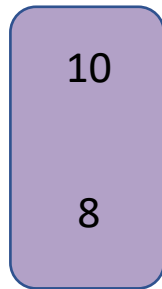

8  
4

3  
5

1  
9

6  
2

- Βάλε σε κύκλο τον **μικρότερο** από τους δύο αριθμούς.



Δραστηριότητα 8:

- Λύσε τις πιο κάτω μαθηματικές προτάσεις σε ένα τετράδιο.

$8 + 1 =$	$7 + 0 =$	$4 + 2 =$	$3 + 6 =$	$4 + 5 =$	$6 + 4 =$
$4 + 3 =$	$5 + 1 =$	$6 + 0 =$	$4 + 4 =$	$5 + 3 =$	$8 + 2 =$
$2 + 6 =$	$3 + 7 =$	$3 + 2 =$	$7 + 2 =$	$3 + 1 =$	$5 + 0 =$
$1 + 2 =$	$5 + 2 =$	$8 + 0 =$	$2 + 2 =$	$1 + 9 =$	$3 + 3 =$

Δραστηριότητα 9:

- Πάρε δύο ζάρια.
- Ρίξε τα και γράψε σε ένα τετράδιο τους αριθμούς που σου έτυχαν.
- Φτιάξε μαθηματικές προτάσεις πρόσθεσης με τους αριθμούς αυτούς και λύσε τες.

Δραστηριότητα 10:

- Φτιάξε με τα παιχνίδια σου ένα φανταστικό **κατάστημα παιχνιδιών**.
- Γράψε έναν τιμοκατάλογο ή βάλε σε κάθε παιχνίδι μία καρτέλα στην οποία να αναγράφεται η τιμή του.
- Προσποιήσου ότι είσαι πελάτης και υπολόγισε κάθε φορά πόσα στοιχίζουν αυτά που ψώνισες.